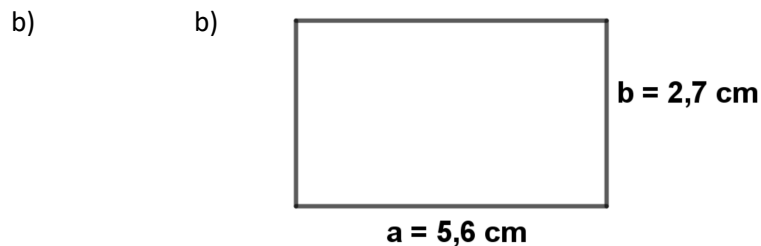
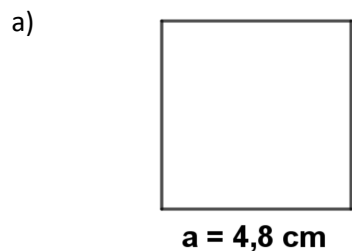
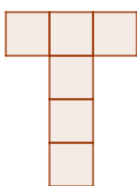


Obvod a obsah 2

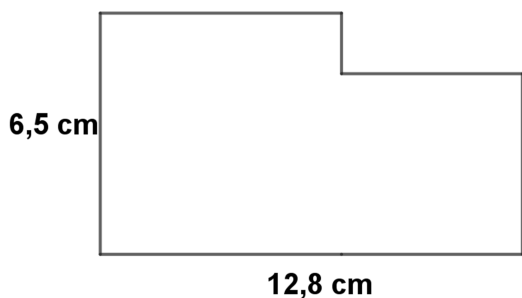
1) Vypočti obvod a obsah obrazců uvedených na obrázcích



2) Písmeno na obrázku je složeno ze 6 shodných čtverců. Obvod písmene T je 42 cm. Jaký je jeho obsah?



3) Vypočti obvod útvaru:



4) Vypočti obsahy mnohoúhelníků ve čtvercové síti, 1 čtvereček = 1 cm².

